

Temperatuurverschillen berekenen  
Aangeven wat getallen uitdrukken

1


Hoe warm of koud is het? Noteer het. Bereken dan het temperatuurverschil.

b

a



.....6..... °C



.....11..... °C



.....-8..... °C



.....-3..... °C

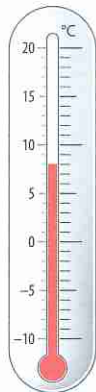
Het temperatuurverschil is .....5..... graden.

Het temperatuurverschil is .....5..... graden.

b



.....15..... °C



.....8..... °C



.....-1..... °C



.....-7..... °C

Het temperatuurverschil is .....7..... graden.

Het temperatuurverschil is .....6..... graden.

2

Kleur nu zelf de temperatuur in. Bereken dan het temperatuurverschil.

a



4 °C



-4 °C



11 °C



-7 °C


Het temperatuurverschil is .....8..... graden.

Het temperatuurverschil is .....18..... graden.

b



-3 °C



2 °C



-1 °C



5 °C

Het temperatuurverschil is .....5..... graden.

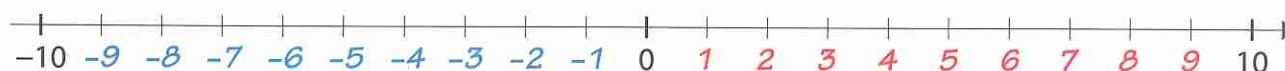
Het temperatuurverschil is .....6..... graden.

3

Oeps, de thermometer is omgevallen. Vul de getallenlijn aan.



Schrijf de negatieve getallen in het **blauw** en de positieve getallen in het **rood**.



4

Hoe warm of koud is het? Kleur of noteer de temperatuur.



a

Vandaag is het -2 °C.  
Morgen wordt het  
5 graden warmer.



Morgen is het:



b

Vandaag is het .....3..... °C.  
Morgen wordt het  
6 graden frisser.



Morgen is het:

